
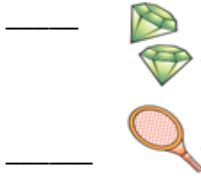


Lições de casa Fundamental I

3º anos

Lição de Língua Portuguesa (* Fazer na folha ou colar no caderno)

1-Coloque o artigo indefinido: (um, uns, uma, umas)



2- Coloque as palavras do quadro abaixo em ordem alfabética:

Dado bola amor casa faca elefante gato igreja

3- Pinte as palavras em que aparecem os sinônimos:

a) entupida aberta redonda fechada

b) no interior dentro embaixo fora

4- Reescreva a frase, substituindo a palavra destacada por seu antônimo:

Eu voltei **rapidamente**.

5-Complete colocando os artigos definidos e indefinidos:

_____ conto de fadas conta _____ história de _____ jovem princesa que encontra _____ príncipe muito bonito. Eles vivem felizes no final.

Lição de Técnica de Redação. (* Fazer no caderno de Língua Portuguesa)

Carta Pessoal

Escrevemos uma carta pessoal quando queremos nos comunicar com alguém próximo de nós, como amigos ou familiares. Quanto à estrutura, a carta pessoal deve seguir a seguinte sequência:

1. Local e data escritos à esquerda
2. Destinatário
3. Mensagem
4. Despedida e assinatura

Escreva uma carta para sua avó falando o que você sente por ela. Atenção à estrutura da carta.

Lição de Inglês

Traduza as seguintes frases onde constam o VERBO TO BE:

- Translate the sentences with VERB TO BE:

- a) He is a intelligent and funny boy. _____
- b) She is a beautiful young girl. _____
- c) I am a student and I study at CEAF School. _____
- d) We are the champions. _____
- e) They are best friends. _____


Lição de arte

ARTE

PINTE USANDO AS CORES PRIMÁRIAS:



Enumere as profissões



- 1-CHEF
- 2-FIREFIGHTER
- 3-TAXI DRIVER
- 4-TEACHER
- 5-POLICE OFFICER
- 6-DENTIST
- 7-DOCTOR

Lição de Matemática

1-Dê o antecessor e o sucessor dos números abaixo:

_____ 589 _____

_____ 102 _____

_____ 99 _____

_____ 299 _____

_____ 999 _____

Trabalho de Educação Física

Fazer uma pesquisa: "Os benefícios do desenvolvimento das funções motoras na prática da Educação Física".

Professores: Marcos e Jéssica

*Escrever o texto no caderno.

3- Arme e efetue no caderno:


a) $85 + 230 + 368 =$

b) $102 + 60 + 22 =$

c) $966 - 103 =$

d) $468 - 333 =$

2- Pinte as figuras iguais da mesma cor:



2) Observe cada figura e coloque as quantidades :



..... quadrados



.....círculos



.....retângulos

Continue a sequência.

Em ordem crescente

10											
----	--	--	--	--	--	--	--	--	--	--	--

Agora escreva a mesma sequência em ordem decrescente.

--	--	--	--	--	--	--	--	--	--	--	--

Organize os números abaixo em ordem crescente.

120	42	20	200	75	30	150	40
-----	----	----	-----	----	----	-----	----

--	--	--	--	--	--	--	--

Lição de Ciências

1-Dinossauros são:

() mamíferos () anfíbios () répteis () artrópodes () moluscos

2-Assinale X nas afirmações corretas.

() Existiam dinossauros aquáticos, voadores e terrestres.

() Dinossauros eram répteis terrestres.

() Todos os dinossauros eram carnívoros.

3- Assinale a alternativa que melhor explica a importância dos registros fósseis para a ciência.

a) Os restos ou vestígios fósseis são importantes, pois fornecem informações sobre o organismo vivo e o ambiente que habitava.

b) Os restos ou vestígios não são usados nos estudos da paleontologia, pois não são precisos.

Resolva no caderno:

a) Lara fez 158 empadas e 69 pastéis.
Quantos salgadinhos Lara fez?

.....

b) Luciana ganhou um pacote com 98 figurinhas. Deu 48 para sua irmã.
Com quantas figurinhas Luciana ficou?

Separe os números abaixo em **par** e **ímpar**:

55 - 90 - 23 - 76 - 49 - 94 - 14 - 83 - 52 - 11 - 20

PARES

.....

.....

ÍMPARES

.....

.....

c) Os registros ou impressões nada revelam sobre o organismo vivo e o ambiente que ele habitava.

4- Complete as lacunas com as palavras abaixo.

raios solares	explicação	estudos	superfície
poeira	escuro	asteroide	extinção

O motivo da _____ dos dinossauros ainda e tema de _____ .
A _____ mais aceita afirma que um _____ caiu na Terra,
levantando muita _____ na atmosfera, o que impediu os
_____ de chegarem até a _____ terrestre,
deixando o planeta frio e _____ .

Lição de História

1-complete corretamente:

Tombamento - patrimônio - importante - preservação

O _____ é o reconhecimento, por meio de lei, do valor histórico de um bem, transformando-o em _____ oficial público e instituindo um regime jurídico especial de propriedade. Ele é _____ para garantir a _____ dos patrimônios históricos.

2- Por que as primeiras cidades não eram estruturadas?

R: _____

3- Complete corretamente.

sedentários - nômades - escrita - agricultura - domesticação dos animais

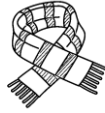
A sociedade humana tem início na Pré-História. Esse período é marcado pela ausência da _____. Os primeiros grupos humanos eram _____, pois se deslocavam de um lugar a outro em busca de _____. Para se tornarem _____, os homens precisaram desenvolver a _____ e a _____.

Lição de Geografia

1-O que são paisagens transformadas?

R: _____

2- Qual a matéria-prima utilizada na fabricação dos seguintes produtos?



3- Quais são as principais atividades da zona urbana?

R: _____

4- Dê exemplos de:

- a) bens de consumo duráveis: _____
- b) bens de consumo não duráveis: _____
- c) comércio de rua: _____
- d) grandes centros comerciais: _____
- e) prestação de serviços: _____