

## Lições de casa Fundamental I

5º anos

Lição de Língua Portuguesa (\* Fazer na folha ou colar no caderno)

1-Conjuguem o verbo **acontecer**.

Presente	Pretérito Imperfeito	Futuro do Presente
Eu		
Tu		
Ele		
Nós		
Vós		
Eles		

2- Dê o sinônimo para as palavras a seguir:

encher: \_\_\_\_\_

entupida: \_\_\_\_\_

interior: \_\_\_\_\_

topavam: \_\_\_\_\_

3- No trecho abaixo grife de azul os substantivos próprios e de vermelho os substantivos comuns:

“ Paulo Henrique atravessou o jardim, aproximou-se das janelas baixas e pôs-se a olhar vidraça adentro...”

4- Encontre no trecho e escreva abaixo:

a) verbos: \_\_\_\_\_

b) digrafos: \_\_\_\_\_

5- Classifique as orações de acordo com o código representado:

**A – artigo definido**

**B – artigo indefinido**

a- Uns alunos chegaram mais cedo à escola ( ).

b – O bem sempre vencerá o mal ( ).

c – Preciso de uma explicação para o fato ( ).

d – Chegaram as encomendas ( ).

e – Nesta loja vendem-se uns artigos importados ( ).

---

### Lição de Inglês

- Traduza as seguintes frases onde constam o VERBO TO BE e DIAS DA SEMANA:

- Translate the sentences with VERB TO BE and DAYS OF THE WEEK:

a) He is a intelligent and funny boy. \_\_\_\_\_

b) She is a beautiful young girl. \_\_\_\_\_

c) I am a student and I study at CEAF School. \_\_\_\_\_

d) We are the champions. \_\_\_\_\_

- e) They are best friends. \_\_\_\_\_
- f) Tuesday is before Wednesday. \_\_\_\_\_
- g) Thursday is after Wednesday. \_\_\_\_\_
- h) Thursday is before Friday. \_\_\_\_\_
- i) Tuesday is after Monday. \_\_\_\_\_
- a) Peter is playing guitar very well. \_\_\_\_\_
- b) You are going at the English school. \_\_\_\_\_
- c) We aren't eating candies anymore. \_\_\_\_\_
- f) The cat isn't drinking milk now. \_\_\_\_\_


Lição de Técnica de Redação. (\* Fazer no caderno de Língua Portuguesa)

Texto opinativo

Texto opinativo ou de opinião é um texto breve e claro na interpretação dos fatos.

“A amizade” – Maurício de Souza

1. Leia as tirinhas e de sua opinião:



Lição de Matemática. (\* Fazer no caderno)

1-Resolva as potências a seguir:

$(2)^3 =$  \_\_\_\_\_

$(-7)^3 =$  \_\_\_\_\_

$(-5)^3 =$  \_\_\_\_\_

$(2)^7 =$  \_\_\_\_\_

$(-2)^7 =$  \_\_\_\_\_

Complete a sequência:

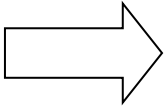
a) 1, 6, 11, 16, 21, \_\_\_\_\_, \_\_\_\_\_, \_\_\_\_\_, \_\_\_\_\_

b) 10, 30, 90, 270, \_\_\_\_\_, \_\_\_\_\_, \_\_\_\_\_, \_\_\_\_\_


3-Resolva:

Pedro possui 3 bonés de cores diferentes (azul, preto e verde) e 4 camisetas (branca, laranja, amarela e vermelha). De quantas maneiras diferentes ele pode combinar as camisetas e os bonés?

4- Nomeie seus vértices e diga quantos e quais são os segmentos de reta que compõem cada figura?

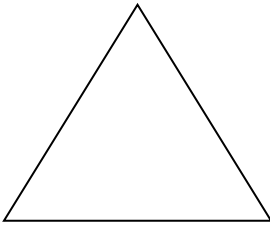


R: \_\_\_\_\_

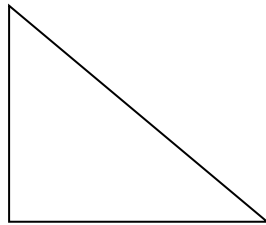


R: \_\_\_\_\_

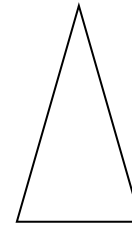
5- Classifique os triângulos em: equilátero, isóscele e escaleno.



\_\_\_\_\_



\_\_\_\_\_



\_\_\_\_\_

Lição de História.

1- Quem foi o escrivão da esquadra do descobrimento?

- ( ) Dom Manuel
- ( ) José Seabra da Silva
- ( ) Pero Vaz de Caminha

2- O segundo país a se unificar e também a se lançarem ao mar para disputar com os portugueses a posse do território desconhecido foi a:

- ( ) Inglaterra
- ( ) Espanha

3- Explique o termo “capitão-mor”.

R: \_\_\_\_\_  
\_\_\_\_\_  
\_\_\_\_\_

4- O que podemos entender por “cultura”?

R: \_\_\_\_\_  
\_\_\_\_\_  
\_\_\_\_\_

Lição de Geografia.

1) Assinale (V) para verdadeiro e (F) para falso:

- ( ) São Paulo está mais próxima de Montevidéu do que de Manaus.
- ( ) No limite do Sul do Brasil está o Uruguai.
- ( ) O Brasil é banhado apenas pelo oceano Atlântico.
- ( ) As ilhas Malvinas (Falklands) fazem parte do território argentino.

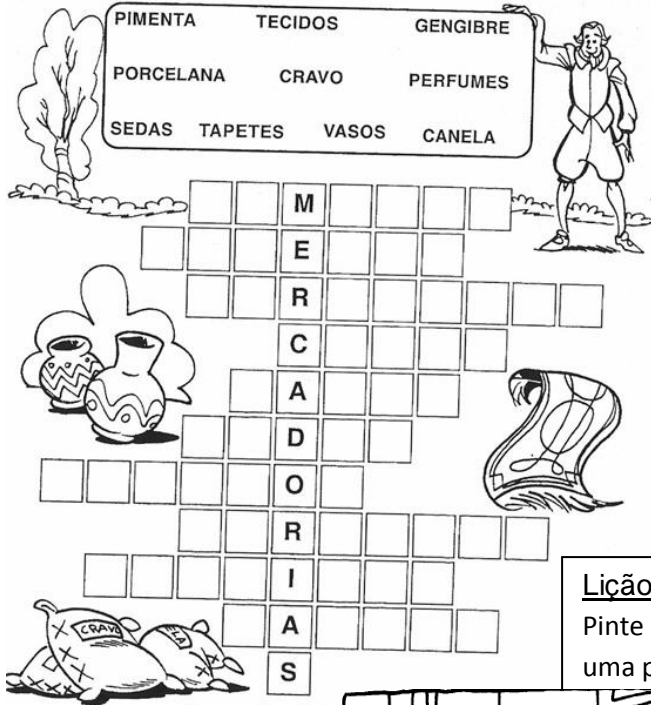
2- Quais são os países integrantes do Mercosul?

R: \_\_\_\_\_

3- Quais regiões reúnem a mesma quantidade de estados?

- ( ) Norte e Sul  
( ) Sul e Centro-Oeste  
( ) Nordeste e Sul

♦ Encaixe na cruzadinha os nomes dos produtos orientais mais procurados pelos europeus.



Lição de Ciências.

1-O intestino é um órgão ou um tecido?

2-O nosso esqueleto é formado por aproximadamente:

- ( ) 206 ossos ( ) 212 ossos

3-O que são juntas ou articulações?

4-O que são moléculas?

5-De três funções da membrana plasmática da célula.

6-As células musculares estriadas esqueléticas são:

- ( ) grandes ( ) pequenas

7-Cite as quatro funções básicas do tecido conjuntivo?

Lição de Arte.

Pinte o quarto do Van Gogh com as cores frias. Aproveite e faça uma pequena pesquisa e descubra quem foi Vicent Van Gogh:



**Trabalho de Educação Física**

Fazer uma pesquisa: “Os benefícios do desenvolvimento das funções motoras na prática da Educação Física”.

Professores: Marcos e Jéssica

\*Escrever o texto no caderno.