

## Lições de casa Fundamental I

3º anos

Lição de Língua Portuguesa (\* Fazer no caderno ou colar)

### Artigos

#### O passeio no clube

Estava a manhã ensolarada! As nuvens do céu estavam em forma de flocos de algodão.

As crianças resolveram passar um dia no clube.

A água da piscina estava morninha.

Gilberto brinca com a bola colorida enquanto Sofia dá um mergulho na piscina.

O senhor Honório, avô das crianças, aconchegou-se debaixo de uma barraca de sol e deu uma cochilada.

O dia passou tão rapidamente que as crianças nem perceberam o tempo passar.

#### Estudo do Texto

1) Qual é o título do texto?

R: \_\_\_\_\_

2) Quantos parágrafos há no texto?

R: \_\_\_\_\_

3) Quais são os personagens da história?

R: \_\_\_\_\_

4) Onde se passa a história?

R: \_\_\_\_\_

5) Leia o texto, circule os **artigos definidos** e sublinhe os **artigos indefinidos**:

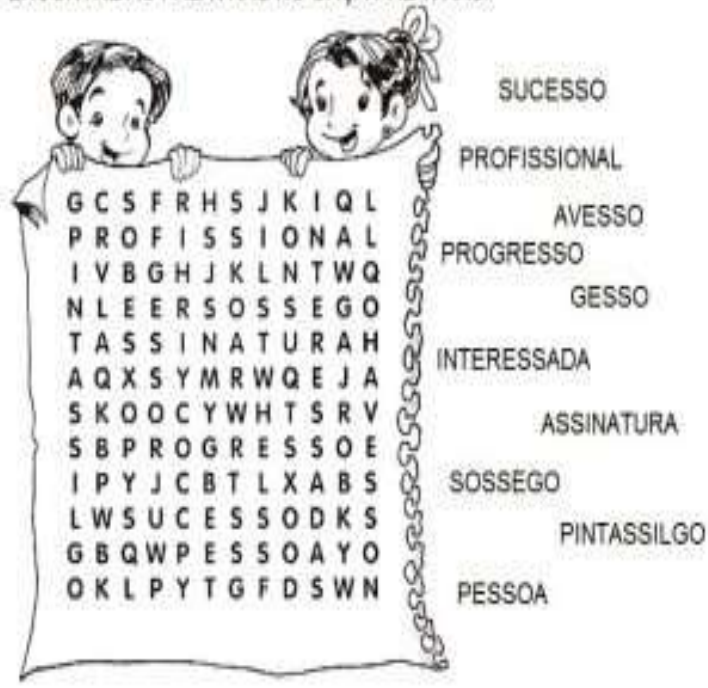
Complete com os artigos definidos adequados:

- a) \_\_\_\_ cão
- b) \_\_\_\_ borboleta
- c) \_\_\_\_ pavão
- d) \_\_\_\_ marrecos
- e) \_\_\_\_ galinha
- f) \_\_\_\_ muda
- g) \_\_\_\_ abelhas
- h) \_\_\_\_ cabras
- i) \_\_\_\_ leitão

Complete com os artigos indefinidos adequados:

- a) \_\_\_\_ garoto
- b) \_\_\_\_ pilões
- c) \_\_\_\_ pipa
- d) \_\_\_\_ rosas
- e) \_\_\_\_ bolas
- f) \_\_\_\_ bombons
- g) \_\_\_\_ casa
- h) \_\_\_\_ patins
- i) \_\_\_\_ boneca

ENCONTRE AS PALAVRAS NO CAÇA PALAVRAS.



SUCCESSO  
PROFISSIONAL  
AVESSO  
PROGRESSO  
GESSO  
INTERESSADA  
ASSINATURA  
SOSSEGO  
PINTASSILGO  
PESSOA

Grid of letters:  
G C S F R H S J K I Q L  
P R O F I S S I O N A L  
I V B G H J K L N T W Q  
N L E E R S O S S E G O  
T A S S I N A T U R A H  
A Q X S Y M R W Q E J A  
S K O O C Y W H T S R V  
S B P R O G R E S S O E  
I P Y J C B T L X A B S  
L W S U C C E S S O D K S  
G B Q W P E S S O A Y O  
O K L P Y T G F D S W N

Complete as palavras abaixo com **S** ou **Z** e depois escreva cada uma no quadro correspondente.

A__a	Vi__ita	Do__e	A__ilo
Co__ido	Famo__o	Va__io	A__edo
Ca__a	De__ena	Bati__ado	Te__oura
Defe__a	Pe__o	Avi__o	Va__o

Palavras com:

**S**

**Z**

Recorte e cole de jornais ou revistas 4 palavras que tenham nh, lh e ch.

Complete as palavras com **m** ou **n**:

ame .....	doi .....	de .....	te
ba .....	bolê	ci .....	to
pi .....	tura	ru .....	ba
bo .....	bo .....	ga .....	bá
ge .....	te	le .....	da
ra .....	pa	ta .....	pa

Separe as sílabas:

mangueira - \_\_\_\_\_

sarampo - \_\_\_\_\_

tempestade - \_\_\_\_\_

simpático - \_\_\_\_\_

Vilma - \_\_\_\_\_

Lição de Técnica de Redação. (\* Fazer no caderno de Língua Portuguesa)

## CARTA ENIGMÁTICA

Escreva uma carta para um(a) amigo(a) e substitua algumas palavras por desenhos, para que ele(a) os decifre.

Não se esqueça de colocar:

- para quem vai enviar
- assunto do texto
- a despedida da carta



Lição de Inglês

1) Complete with **is** or **are**:

- a) There \_\_\_\_\_ an interesting history.
- b) There \_\_\_\_\_ a black a bicycle.
- c) There \_\_\_\_\_ two dogs.
- d) There \_\_\_\_\_ some insects.
- e) There \_\_\_\_\_ a pet.

2) Write the ROOMS OF HOUSE in ENGLISH:

- a) quarto: \_\_\_\_\_
- b) banheiro: \_\_\_\_\_
- c) sala de estar: \_\_\_\_\_
- d) cozinha: \_\_\_\_\_
- e) jardim: \_\_\_\_\_

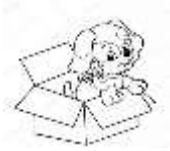
3) DRAW YOUR classroom and paint:

4) DRAW YOUR bedroom:

And WRITE the 04 COLORS:

Y E _ _ _ O W ( amarelo )	G _ _ _ E N ( verde )
R _ _ D ( vermelho )	B L _ _ E ( azul )
P _ N _ ( rosa )	GR _ _ Y ( cinza )
BL _ C _ ( preto )	_ _ _ IT _ ( branco )

5) Answer the questions using **There is** ( to singular) and **There are** (to plural):



a) Is there a dog in the box? \_\_\_\_\_



b) Are there stars in the sky? \_\_\_\_\_

Lição de Matemática

## CAÇA RESULTADO

8	0	5	4	3	2	5	7	9	6
1	3	2	3	4	5	0	6	0	4
0	5	9	6	9	7	5	3	9	8
7	3	1	0	5	9	5	6	1	0
2	0	9	4	7	4	0	8	7	1
0	7	8	9	3	0	9	6	4	5
8	2	8	0	5	6	2	9	3	0
0	9	5	7	0	4	9	5	3	4
7	5	3	9	2	6	0	7	9	8

Resolva as adições e procure os resultados no caça-palavras:

$\begin{array}{r} \text{C D U} \\ 155 \\ +493 \\ \hline \end{array}$	$\begin{array}{r} \text{C D U} \\ 541 \\ +264 \\ \hline \end{array}$	$\begin{array}{r} \text{C D U} \\ 419 \\ +154 \\ \hline \end{array}$	$\begin{array}{r} \text{C D U} \\ 173 \\ +166 \\ \hline \end{array}$
$\begin{array}{r} \text{C D U} \\ 437 \\ +316 \\ \hline \end{array}$	$\begin{array}{r} \text{C D U} \\ 472 \\ +174 \\ \hline \end{array}$	$\begin{array}{r} \text{C D U} \\ 330 \\ +498 \\ \hline \end{array}$	$\begin{array}{r} \text{C D U} \\ 343 \\ +528 \\ \hline \end{array}$

Recorte, cole no caderno e resolva:

A) Num trem de ferro viajam 252 passageiros em pé e 180 sentados. Quantos passageiros há no trem?

**Operação**                      **Resposta**

B) Para uma festa, foram compradas 5 dúzias de rosas, 2 dezenas de hortênsias e 1 dezena de palmas. Quantas flores enfeitaram a festa?

**Operação**                      **Resposta**

C) Chiquinho coleciona carrinhos. Ele possui 5 dezenas de carros vermelhos, 70 amarelos, 30 azuis e 35 verdes. Quantos carrinhos Chiquinho possui em sua coleção?

**Operação**                      **Resposta**

D) Uma indústria tem 3 027 funcionários, que trabalham durante o dia, e 1 203 funcionários, que trabalham à noite. Quantos funcionários tem essa fábrica?

**Operação**                      **Resposta**

E) Uma farmácia vendeu 152 caixas de remédio na segunda-feira, 96 caixas de remédio na terça-feira. Quantas caixas de remédio foram vendidas nos dois dias?

**Operação**                      **Resposta**


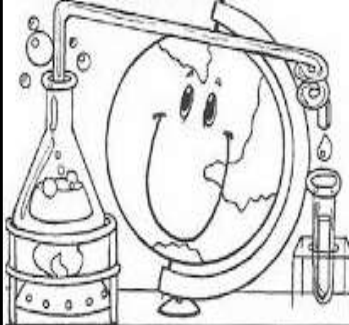
Recorte, cole no caderno e resolva:

1. Em uma caixa há 45 limões. Quantos limões há em 7 caixas?
2. Luciano tem 6 dezenas e meia de bolas de gude e seu irmão tem o quádruplo. Quantas bolas em o seu irmão?
3. Camila tem 20 sacos com 35 balas em cada um. Quantas balas há em todos os sacos?
4. Um alfaiate comprou 8 peças de tecido de 30 metros cada uma. Quantos metros de tecido o alfaiate comprou?
5. Em uma estante há 5 prateleiras com 168 livros cada uma. Quantos livros há na estante?
6. Um livro em 356 páginas. Quantas paginas terão 8 livros?
7. Colei meia dúzia de figurinhas em cada página de um álbum. O álbum tem 66 páginas. Quantas figurinhas colei?
8. Em uma escola há 38 classes com 40 alunos cada uma. Quantos alunos há na escola?
9. João estocou 575 caixas contendo meia dezena de tubos de cola cada uma. Quantos tubos de cola João estocou?
10. Num supermercado há 264 caixas com meia dúzia de laranjas cada uma. Quantas laranjas há em todas as caixas?
11. Um caixote tem 1200 maçãs. Quantas maçãs terão 8 caixotes?
12. Um feirante vendeu duas dúzias de caixas de abacates. Em cada caixa havia meia dúzia de abacates. Quantos abacates ele vendeu?

► **Leia:**

**História é...**

- A ciência que estuda fatos significativos já acontecidos com a Humanidade.



- No ano de 1500, D. Manuel, rei de Portugal, preparou uma esquadra (navios), para ser comandada por Pedro Alvares Cabral, com o objetivo de fazer uma viagem às terras distantes das Índias.

**No dia 22 de abril de 1500:**

**Aqui os portugueses encontraram:**

- A esquadra chegou à nossa terra.
- Avistaram um monte e deram-lhe o nome de Monte Pascoal (era Páscoa).
- O Monte Pascoal fica no litoral sul do atual Estado da Bahia.

- Pessoas que aqui viviam receberam o nome de índios.
- Nomes dados à nova terra:
  - Ilha de Vera Cruz
  - Terra de Santa Cruz
  - Brasil (por causa da madeira encontrada, chamada pau-brasil).

**Assim eram os índios:**

- Moravam em ocas (taba - aldeia).
- O chefe: Cacique.
- O chefe religioso: Pajé.
- Usavam canoas.
- Seus utensílios eram cerâmicas de barro e cestas de palha.
- Enfeitavam-se com penas, dentes de animais e pinturas.
- Alimentavam-se: caça, pesca, mandioca, milho, etc.
- Suas armas: flecha/arco, lança, tacape e zarabatana.




❖ **Complete com as palavras que estão no quadro abaixo:**

- Viviam em
- Se organizavam em
- Faziam comemorações nas praças chamadas
- Os homens
- As mulheres
- Eles adoravam a Lua, o trovão, o raio e o
- O chefe era o
- O meio de transporte usado eram canoas e
- Dormiam em



**Geografia:**

O ser humano pode prejudicar o ambiente. A figura abaixo representa



- (A) o uso de agrotóxicos.
- (B) a queimada.
- (C) o desmatamento.
- (D) o acúmulo de lixo.

Responda: História

Qual o nome da primeira Vila fundada no Brasil?

---



---

Por que o ser humano pré-histórico era nômade?

---



---

Numere as frases corretamente>

(1) Direito dos alunos

(2) Dever dos alunos

- Ser respeitado.
- Estudar e fazer com interesse suas tarefas.
- Ser pontual.
- Ter um bom ensino e uma boa educação.
- Não faltar às aulas.
- Ser atencioso e respeitar os professores.
- Ter um espaço para brincar.
- Zelar pela limpeza da escola.

Marque um X na resposta certa:


NOMES	RURAL	URBANA
1- Ar puro		
2- Poluição		
3- Vaqueiro		
4- Prefeitura		
5- Fazendeiro		
6- Cachoeiras		
7- Criação de gado		
8- Praça de esportes		
9- Correios		
10- Grandes plantações		

Lição de Ciências

Os seres vivos dependem de outros componentes do meio ambiente para viver. Dois desses componentes são:


- (A) areia e tecido.
- (B) asfalto e luz.
- (C) ar e tecido.
- (D) ar e água.

Faça uma pesquisa, no caderno, com um animal de cada classe abaixo:




**PEIXES**

- Possuem escamas e nadadeiras
- Colocam ovos
- Vivem na água



**AMFÍBIOS**

- Tem pele úmida e lisa
- Colocam ovos
- Os filhote vivem na água e os adultos na terra




**RÉPTEIS**


- Possuem escamas
- Colocam ovos
- Vivem na terra

Escreva o nome dos animais e numere os quadros de acordo com a legenda.


- ① Animal que vive na água.
- ② Animais que vivem na terra.
- ③ Animais que vivem na água e na terra.




Peixe




Jacaré



Cachorro



Galinha



Sapo

2) Agora, escreva as características de cada animal.

Peixe	
Jacaré	
Cachorro	
Galinha	
Sapo	

Observe as imagens abaixo e relacione corretamente.

(1) cidade fortificada (2) cidade portuária



Cidade de Paraty na atualidade. Um dos antigos pontos de escoamento do ouro que seguia para Portugal.



Cidade de Salvador na época em que era murada.

( )

( )

Responda: Geografia

Qual é a importância dos ninhos para as aves e seus filhotes?

---



---



---

Quais os tipos de paisagem existentes?

---



---



---

Lição de arte

Pinte o mosaico das flores com as cores secundárias e o Gato do artista Romero Britto com as cores primárias.

